



1. Yukarıdaki üç düğmenin görevi hangi şıkta doğru sıralanmıştır? (5 puan)

- a) Simge durumuna küçült – Ekranı Kapla – Kapat
b) Sil – Ekranı Kapla – Kapat
c) Önceki boyut – Ekranı Kapla – Sil
d) Önceki Boyut – Ekranı Kapla – Kapat



2. Microsoft Word programında yukarıdaki butonların görevi aşağıdakilerden hangisidir?

- a) Kalın Eğik Altı Çizili
b) Altı Çizili Kalın Eğik
c) Eğik Altı Çizili Kalın
d) Kalın Altı Çizili Eğik

3. Yeni bir klasör oluşturmak için hangisini yapmak gerekir?

- a) Fare-Sol tıkla-Yeni-Klasör
b) Fare-Sağ tıkla-Yeni-Klasör
c) Fare-Sol tıkla-Yeni-Aç
d) Fare-Sağ tıkla-Yeni-Aç

Alışveriş Listem

- ❖ 1 kg domates
- ❖ 3 kg patates
- ❖ 1 kg ıspanak

4. Alışveriş listesindeki gibi madde işareti koymak için hangi araca tıklamalıyız?


- a) b) c) d)

5. Windows'ta silinen dosyaların tutulduğu yer neresidir?

- a) Belgelerim b) Masaüstü
c) Geri Dönüşüm Kutusu d) Bilgisayarım

6. Hangisi kötü amaçlı yazılımların genel adıdır?

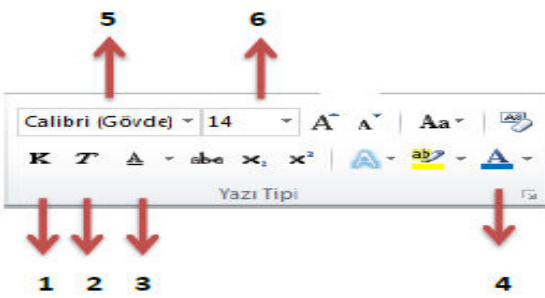
- a) Virüs b) Malware
c) Spyware d) Adware



7. Resimdeki araçlar genel olarak ne işe yarar?

- a) Yazı renklendirilir b) Tablo eklenir
c) Şekil çizilir d) Metni hizalanır

8. Aşağıdaki numaralandırılmış araçlar ne işe yarar? Doğru sıralamayı yandaki tabloda işaretleyiniz.



	1	2	3	4	5	6
a)	Kalın	Eğik	Yazı Boyutu	Yazı Rengi	Yazı Tipi	Altı Çizili
b)	Eğik	Eğik	Altı Çizili	Yazı Boyutu	Yazı Tipi	Yazı Boyutu
c)	Yazı Rengi	Kalın	Altı Çizili	Sayfa Rengi	Yazı Boyutu	Yazı Boyutu
d)	Kalın	Eğik	Altı Çizili	Yazı Rengi	Yazı Tipi	Yazı Boyutu

9. Aşağıdaki fonksiyon tuşlarından hangisi etkin pencereyi güncelleştirir?

- a)F1 b)F3 c)F5 d)F7

10.Aşağıdakilerden hangisi teknolojinin olumsuz etkilerinden biridir?

- a) Yeni iş sahalarının oluşması
b) Hayatı kolaylaştırması
c) İnsanlar arası iletişimi azaltması
d) Bilgiye kısa sürede ulaşmayı sağlaması

<p>11.Aşağıdakilerden hangisi başkası tarafından bulunması zor güçlü bir şifredir?</p> <p>A)123456 B)abcdef C)qwerty D) A58+t*y2G</p>	
<p>12.Aşağıdakilerden hangisi internet tarayıcısı değildir?</p> <p>a)İnternet Explorer b)Google Chrome c)google d)Mozilla Firefox</p>	

15. Aşağıda verilen klavye tuşlarını doğru olduğunu düşündüğünüz tanımların yanına yazınız?

CapsLock	Shift	ESC	Ctrl	Enter
----------	-------	-----	------	-------

...**CTRL**..... Kontrol tuşu olarak adlandırılır. Programların kısayol tuşlarını çalıştırır.

.....**SHIFT**..Tek başına bir fonksiyonu yoktur. Beraberinde bir tuşa basılırsa büyük harf yazmasını sağlar ve tuşların üst bölümlerinde bulunan karakterleri yazmamızı sağlar.

...**ENTER**.Yapılan işlemi onaylamaya yarar.

.....**CAPSLOCK** Büyük veya küçük harf yazmayı sağlar.

.....**ESC**..... Çıkış veya iptal şlemlerinde kullanılır.

16. Aşağıda verilen ifadeleri doğru şekilde eşleştiriniz.

(4) Dünya çapında yaygın olan ve sürekli büyüyen bir ağıdır.	1- E-posta
(5) İki veya daha fazla bilgisayarın bilgi paylaşımı amacıyla oluşturulan yapıdır.	2- Web Tarayıcısı
(1) Bilgisayarlar aracılığı ile gönderilen elektronik mektuplardır.	3-Arama Motoru
(2) İnternete girmemizi sağlayan yazılımlara denir.	4-İnternet
(3) İnternette arama yapmamızı sağlayan araçlardır.	5-Bilgisayar Ağı

Aşağıdaki dosya türlerini. Uygun uzantılı dosyalar ile eşleştiriniz.

1.Ses dosyası
2.Resim dosyası
3.Sıkıştırılmış dosya
4.Word dosyası
5.Film dosyası

.jpg	:	2
.doc	:	4
.avi	:	5
.mp3	:	1

.rar :3.....



Yanda resmini gördüğünüz simge aşağıdakilerden hangisini gösterir?

A) Dosya B) Klasör C) Sürücü D) İnternet

Türkiye’de kullanılan e-Devlet site adreslerinde aşağıdaki uzantı ve ülke kısaltmalardan hangileri bulunur? (5 puan)

- A) ".gov" , ".tur" B) ".gov", ".tr"
C) ".com", ".tr" D) ".com", tur"

Aşağıdaki şifrelerden hangisi diğerlerine göre kırılması zor (güvenli) olan şifredir?

- A) 1905Nedime B) 4444uvyz
C) 654321 D) nedi85*Y

Aşağıdakilerden hangisi dosya ve klasör isimlendirilmesinde kullanılan karakterlerden birisidir?

- A) <
B) >
C) .
D) /

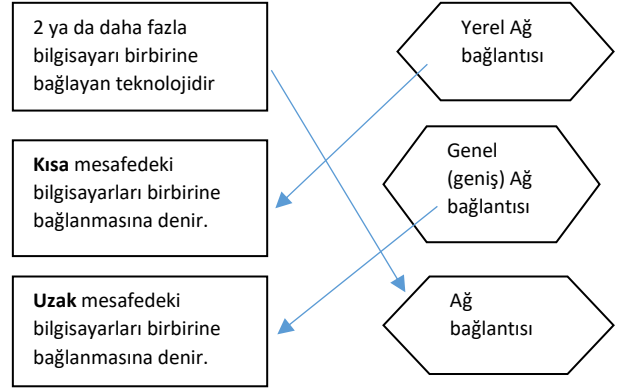
Aşağıdaki ifadelerden doğru olanların yanına “D” yanlış olanlara “Y” yazınız

Y	İnternette tanıştığımız insanlara ismimiz, soyismimiz, adresimiz gibi kişisel bilgilerimizi verebiliriz.
D	Bilgisayar virüslerinden korunmak için antivirüs programı kullanmalıyız.
D	Tanımadığımız kişilerden gelen e posta ları açmamalıyız
Y	Bilgisayarımızın düzgün çalışmasını engelleyen zararlı programlara mikrop denir.
Y	İnternette kullandığımız şifreler telefon numaramız, yaşadığımız yer gibi herkesin bilebileceği karakterlerden oluşmalıdır.

Aşağıdaki e-mail kullanımı ile ilgili yargı cümlelerine doğruysa doğru bölümdeki, yanlışsa yanlış bölümdeki kutucuğun altına işaret koyunuz.

	Doğru	Yanlış
1- E-posta dijital mektuptur.	<input checked="" type="checkbox"/>	<input type="checkbox"/>
2- E-posta adresinde Türkçe karakter kullanılmaz.	<input checked="" type="checkbox"/>	<input type="checkbox"/>
3- E-posta adresinde boşluk kullanılabilir.	<input type="checkbox"/>	<input checked="" type="checkbox"/>
4- Gmail bir e-posta servsidir.	<input checked="" type="checkbox"/>	<input type="checkbox"/>
5- E-posta ücretli bir servistir.	<input type="checkbox"/>	<input checked="" type="checkbox"/>

Aşağıdaki tanımları doğru olanlarla ok çizerek eşleştiriniz.



Cümlelerin yanında ki boşluklara doğru ise D yanlış ise Y yazın.

- A) İnternete bağlanmak için tarayıcı kullanmak gerekmez
B) İnternet bağlantısı yalnız kablo ile sağlanır
C) Tarayıcılar internet sayfasını tarayarak bilgisayar ekranına getirir
D) Google.com bir tarayıcı çeşididir
E) E-okul bir sosyal ağ aracı değildir
F) Yahoo, bing, yandex arama motoru örnekleridir
G) E-okul sistemin amacı öğrenci bilgilerini en kısa ve en hızlı biçimde ihtiyacı olanlarla paylaşmaktır
H) Facebook, twitter sosyal ağlara örnektir
i) Tek bir tarayıcı vardır, tüm dünyada o kullanılır. Bu tarayıcının adı, İnternet Explorerdir
J) Opera, mozilla, chrome tarayıcı çeşitleridir

Aşağıdakilerden hangisi bilgisayar ağlarının amaçlarından değildir?

- A) İletişim Kolaylığı B) Kişisel Şifre Paylaşımı
C) Dosya Paylaşımı D) Yazıcı Paylaşımı

Buse ve Leyla bilgisayarda oyun oynamayı çok sevmektedir. Buse oyunları ağ kurarak birlikte oynayabileceklerini Leyla’ya söylemiştir. Buse ve Leyla Buse’lerin evinde birlikte ağ kurarak oyun oynamaya karar vermişlerdir. **Buse ve Leyla’nın sevdikleri oyunu oynayabilmek için kuracakları ağ türü nedir?**
A) LAN B) İnternet C) WAN D) Kablosuz Ağ

23. Devletin vatandaşlara karşı yükümlü olduğu görev ve hizmetler ile vatandaşların devlete karşı olan görev ve hizmetlerinin karşılıklı olarak elektronik iletişim ve işlem ortamlarında kesintisiz ve güvenli olarak yürütülmesine ne denir?
A) e-İnternet B) e-Devlet C) e-Kitap D) e-Mail

Aşağıdakilerden hangisi internet bağlantısı için gereklidir?

- A) Modem B)Kablolar veya Wi-Fi
C)İşletim Sistemi D)Hepsi

Aşağıdakilerden bilişim suçu ile ilgili yargı cümlelerine doğruysa doğru bölümdeki, yanlışsa yanlış bölümdeki kutucuğun altına işaret koyunuz.

	Doğru	Yanlış
Web sitelerini gezinmek	<input type="checkbox"/>	<input type="checkbox"/>
Mağazadan bilgisayar satın almak	<input type="checkbox"/>	<input type="checkbox"/>
Kredi kartı şifrelerini ele geçirmek	<input type="checkbox"/>	<input type="checkbox"/>
Özel bilgilerimizin internette izinsiz kullanılması	<input type="checkbox"/>	<input type="checkbox"/>
Başkasının bilgisayarına izinsiz girmek	<input type="checkbox"/>	<input type="checkbox"/>

Dijital vatandaşın özellikleri ile ilgili yargı cümlelerine doğruysa doğru bölümdeki, yanlışsa yanlış bölümdeki kutucuğun altına işaret koyunuz.

	Doğru	Yanlış
Teknolojiyi iyiye kullanan	<input type="checkbox"/>	<input type="checkbox"/>
Herkesine virüs gönderen	<input type="checkbox"/>	<input type="checkbox"/>
Teknolojiyi kullanırken Ahlaki davranan	<input type="checkbox"/>	<input type="checkbox"/>
Teknolojiyi kullanırken Saygılı olan	<input type="checkbox"/>	<input type="checkbox"/>
Arkadaşlarına eposta gönderen	<input type="checkbox"/>	<input type="checkbox"/>

Aşağıdakilerden klavye kısayollarından hangisi doğru eşleştirilmiştir?

- a) CTRL+V→KES
b) CTRL+Z→YAPIŞTIR
c) CTRL+C→KOPYALA
d) CTRL+A→GERİ AL





Aşağıdakilerden hangisi bilgisayarın dış donanımına ait bir parçadır?

- a) Yazıcı b) İşlemci
c) RAM d) Ekran Kartı

Aşağıdakilerden hangisi bilgisayara zarar verir?

- a) Klavyede Enter tuşuna basmak
b) Farede sol tıklamak
c) Yeni klasör oluşturmak
d) Bilgisayar çalışırken elektrik fişini çıkarmak

Kelime işlemci programında (WORD) yazıya alt çizgi yapmak için kullanılan simge aşağıdakilerden hangisidir?

- a.  b) 
c)  d) 

Bilgisayarda yazı yazmamızı sağlayan dış donanım parçası aşağıdakilerden hangisidir?

- a) Klavye b) Fare
c) Monitör d) Tarayıcı



Resimdeki araçlarla Microsoft Word programında ne gibi değişiklikler yapılabilir?


- a) Resmin yazı tipi ve boyutunu değiştirilebilir
b) Metnin yazı tipi ve boyutunu değiştirilebilir
c) Metnin yazı rengi ve boyutunu değiştirilebilir
d) Tablo eklenebilir



Resimdeki araçlarla Microsoft Word programında metin üzerinde ne gibi değişiklikler yapılabilir?

- a) Resmin özelliklerini değiştirilebilir
b) Metnin yazı tipi ve boyutunu değiştirilebilir
c) Tabloyu kalın, eğik (italik) ve altı çizgili yapılabilir

d) Metin kalın, eğik (italik) ve altı çizgili yapılabilir



Resimdeki araçlarla Microsoft Word programında sırasıyla hangi işlemleri yapmak için kullanılır?

- a) Resmi sola, ortaya, sağa ve her iki yana hizalar
b) Metnin yazı tipi ve boyutunu değiştirilebilir
c) Tablo kalın, eğik (italik) ve altı çizgili yapılabilir

d) Metni sola, ortaya, sağa ve her iki yana hizalayabilir



Resimdeki araçlarla Microsoft Word programında aşağıdaki işlemlerin hangilerini sırasıyla gerçekleştirebiliriz?

- a) Madde işareti ve numaralandırma, satır aralığı ve yazı rengini değiştirebiliriz
b) Yazı rengi, madde işareti ve numaralandırma, satır aralığı değiştirebiliriz
c) Satır aralığı, madde işareti ve numaralandırma, yazı rengini değiştirebiliriz
d) Madde işareti ve numaralandırma, satır aralığı ve yazı tipini değiştirebiliriz